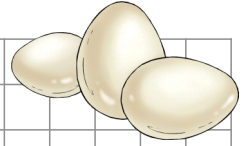



Sachrechnen mit Brüchen

Bauer Frisch hat 1340 Eier zu verpacken. Die Hälfte verpackt er in Schachteln zu 10 Eier. Wie viele Schachteln werden voll?



Empty grid for calculations.

In diesem Jahr sind auf unserem Baum sehr viele Äpfel gewachsen. Papa konnte 546 Äpfel ernten. Leider war 1 Sechstel davon faul oder wurmstichig. Wie viele Äpfel sind essbar?



Empty grid for calculations.

Ein Eichhörnchen hat für den Wintervorrat 2490 Eicheln und 365 Nüsse gesammelt. Es versteckt sie gut und kann leider nur ein Fünftel wieder finden. Wie viele sind das?



Empty grid for calculations.

8190 Flaschen Mineralwasser werden in 10er Kisten verpackt. Ein Neuntel davon wird gleich am ersten Tag verkauft. Wie viele sind noch übrig?




Empty grid for calculations.

Sachrechnen mit Brüchen

Heute habe ich 300 Minuten Fernseher geschaut. Leider war $\frac{1}{5}$ von langweilige Werbung. Wie viele Minuten Werbung war das?



Im Klassenzimmer ist eine Kiste mit 128 Stiften. Ein Achtel davon ist spitzig, Der Rest sollte dringend einmal wieder gespitzt werden. Wie viele Stifte sind das?



Die Lehrerin muss heute viele Hefte und Bücher korrigieren. In ihrer Tasche sind 96 Stück. Ein Sechstel schafft sie in der ersten Stunde. Wie viele sind noch übrig?



In einem Ameisenhaufen leben 34585 Ameisen. Ein Fünftel davon ruht sich gerade aus. Wie viele Ameisen arbeiten?

